

## M 02.03 Résultats de sondages sur le Brexit

Diagramme A:

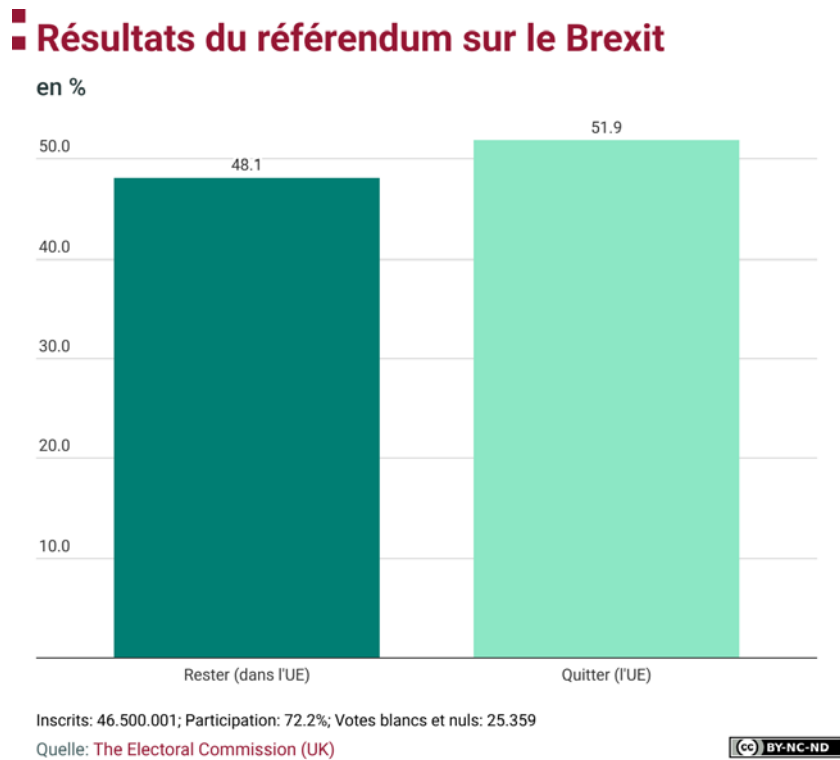
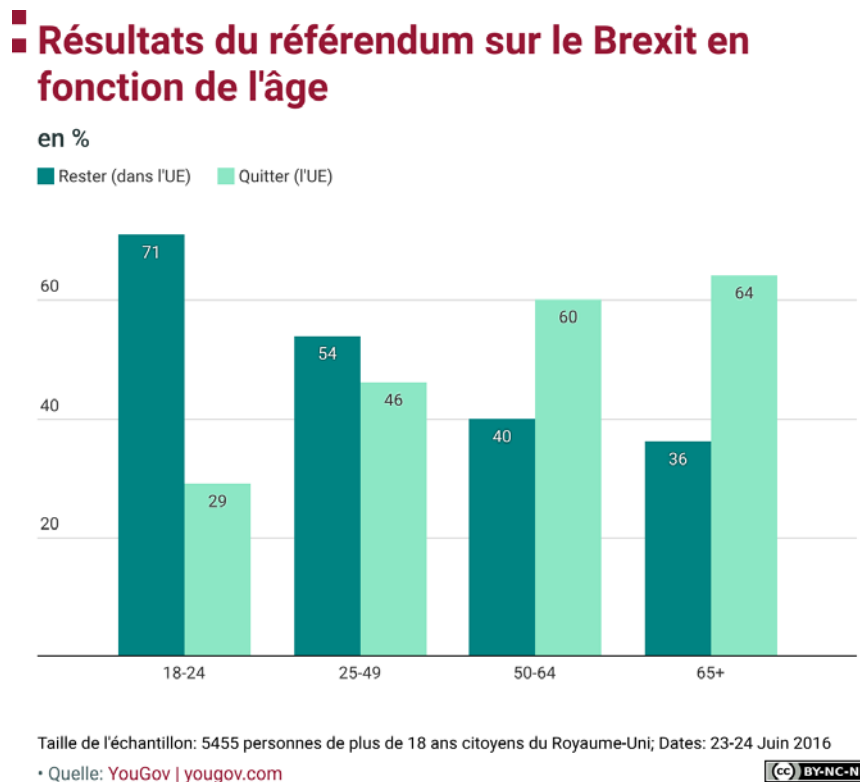


Diagramme B:

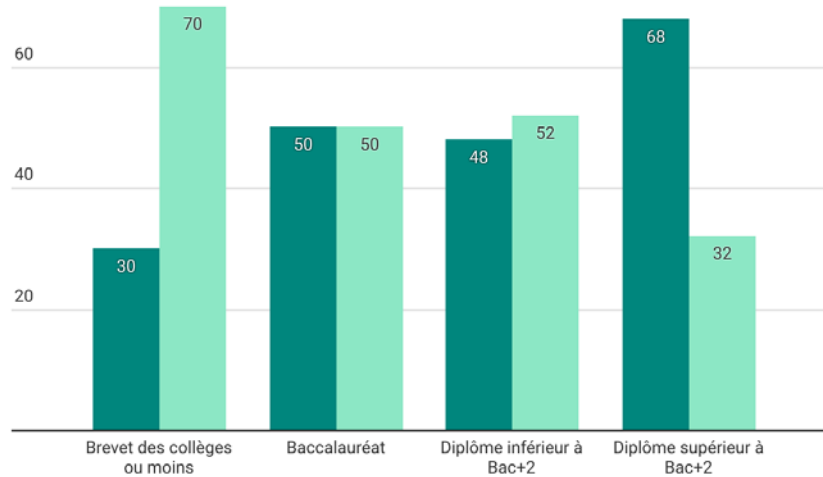


## Diagramme C:

### ■ Résultats du référendum sur le Brexit en fonction du niveau d'éducation

en % selon le dernier diplôme obtenu

■ Rester (dans l'UE) ■ Quitter (l'UE)



Taille de l'échantillon: 5455 personnes de plus de 18 ans citoyens du Royaume-Uni; Dates: 23-24 Juin 2016

• Quelle: YouGov | yougov.com

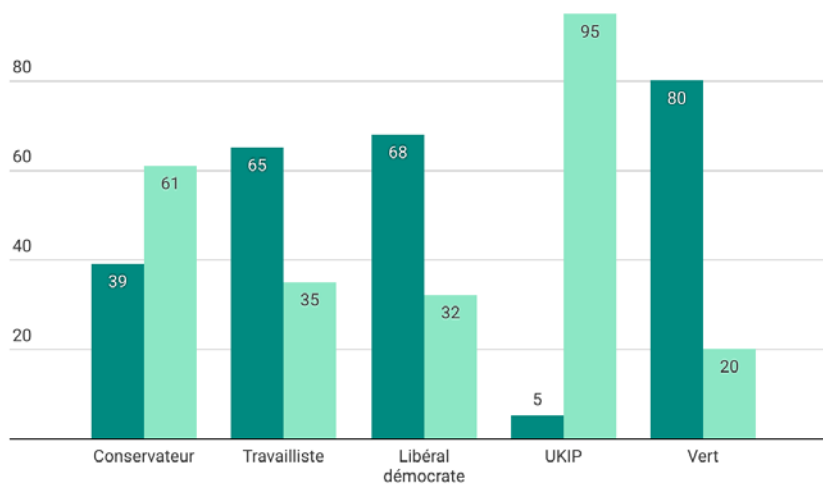


## Diagramme D:

### ■ Résultats du référendum sur le Brexit en fonction de l'opinion politique

en % d'après le vote de la personne aux élections de 2015

■ Rester (dans l'UE) ■ Quitter (l'UE)



Taille de l'échantillon: 5455 personnes de plus de 18 ans citoyens du Royaume-Uni; Dates: 23-24 Juin 2016

• Quelle: YouGov | yougov.com



### Exercices:

1. Analyse les diagrammes A à D. Quel sont les thèmes abordés ? Qu'est-ce qui les distingue ?
2. Quelles conclusions peut-on tirer des diagrammes ? Retiens un message clé par diagramme.
3. Discute des résultats en classe.